









Сурагчийн нэр:



Эхэлсэн: он сар өдөр


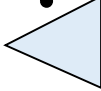
1 Дүрс бүрийг ижил хэлбэртэй 1 зүйлтэй холбож, дүрсийн нэрийг бичээрэй.

а.  

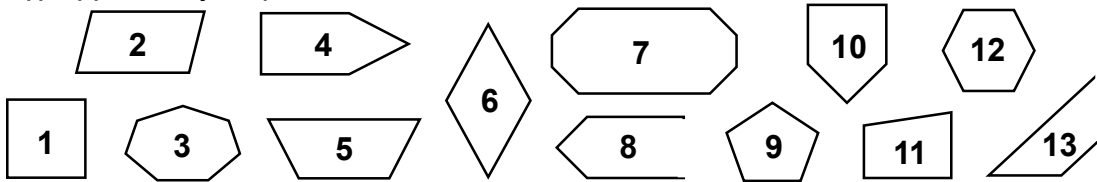
б.  

в.  

г.  

д.  

2 Дүрсүүдийг дугаарлав.



Дараах тохиолдол бүрд тохирох дүрсүүдийн дугаарыг бичээрэй.

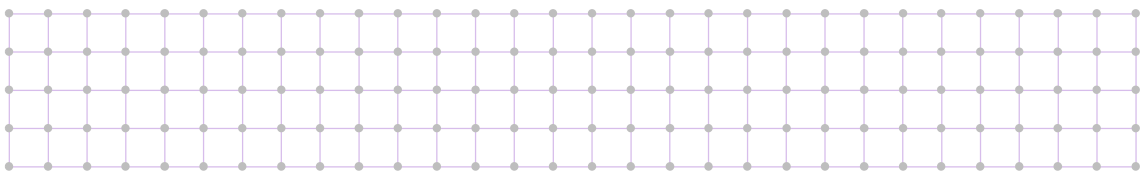
а. Дөрвөн өнцөгт: 1, в. Зургаан өнцөгт:

б. Таван өнцөгт: г. Долоон өнцөгт:

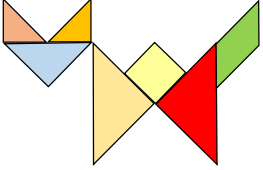
3 Зургаагаас олон талтай хоёр дүрсийн дугаарыг бичээрэй.

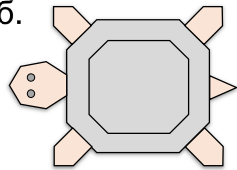
4 Дүрсүүдийг зураарай.

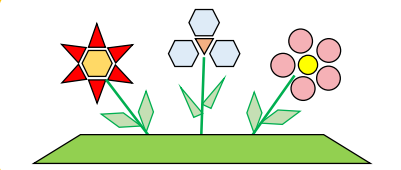
а. Дөрвөн өнцөгт, б. Таван өнцөгт, в. Зургаан өнцөгт, г. Найман өнцөгт



5 Зохиомжид ямар дүрсүүд байгааг тоочиж бичээрэй.

а. 

б. 

в. 

Дууссан:сарөдөр



Даалгавар	1	2	3	4	5
Өөрийн үнэлгээ					

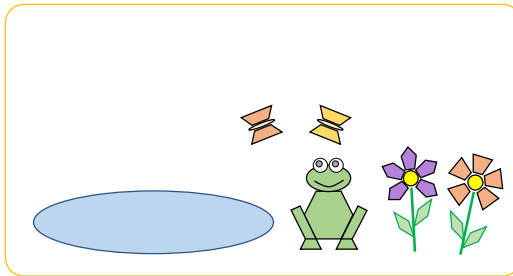


Сурагчийн нэр:

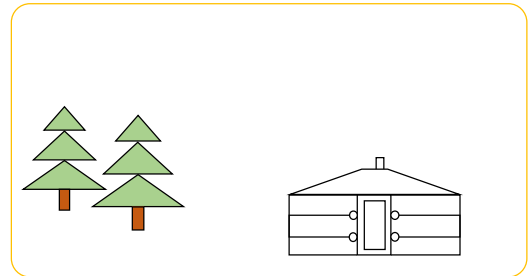
Эхэлсэн: он сар өдөр

1 Зохиомжийг дэлгэрүүлж зурна уу.

а.



б.

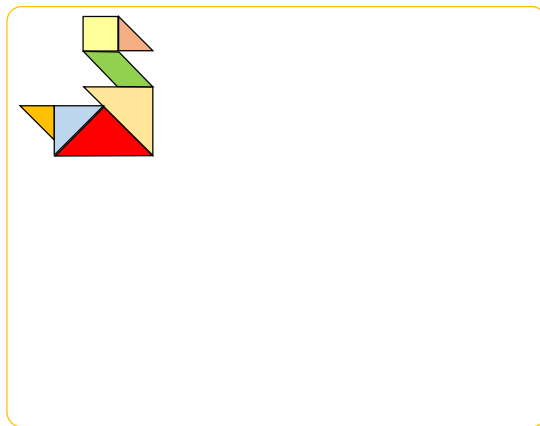


2 Дүрсүүд хэрэглэн зохиомж зураарай.




3 Хайчлах хэсгээс А, Б дүрсүүдийг авч, хоёр өөр зохиомж хийгээд, наагаарай.

а.



б.



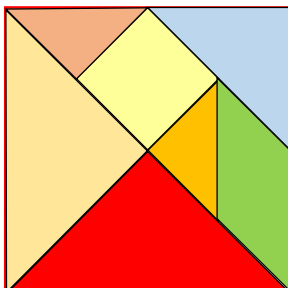
4 Хайчлах хэсгээс В, Г дүрсүүдийг авч, 2 өөр зохиомж хийгээд, дэвтэртээ наагаарай.

Дууссан:сарөдөр

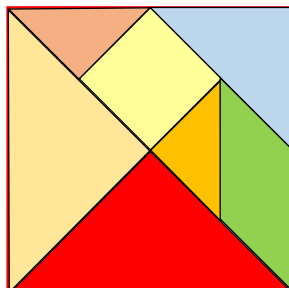


Даалгавар	1	2	3	4
Өөрийн үнэлгээ	😊	😊	😊	😊

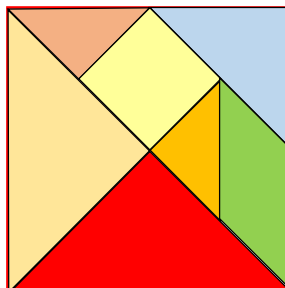
А.



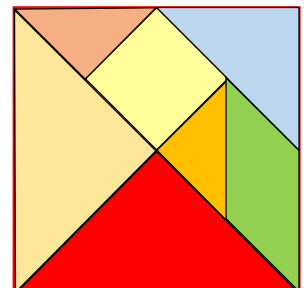
Б.



В.



Г.










Сурагчийн нэр:

Эхэлсэн: он сар өдөр

1 Өгсөн юмс тойрог, дугуй дүрсийн алинтай нь төстэй харагдаж байна вэ? Нөхөж бичээрэй.


а.  б.  в.  г.  д. 

Дугуй _____


2 Товч эсвэл дугуй хэв хэрэглэн 2 ижил дүрс зураарай. Эхний дүрсийг будаж, хоёр дахь дүрсийг будахгүй. Эдгээр дүрсийг нэрлэн бичээрэй.





Эх сурвалж: Дүрслэх урлаг, технологи III, 2020




3 Дараах өгүүлбэр бүрийн үнэн, худлыг шалгаж, тэмдэглээрэй.


а.  Энэ бол тойрог хэлбэртэй. Үнэн Худал
 Энэ бол дугуй хэлбэртэй. Үнэн Худал
 Энэ бол бөөрөнхий хэлбэртэй. Үнэн Худал


б.  Энэ бол тойрог хэлбэртэй. Үнэн Худал
 Энэ бол дугуй хэлбэртэй. Үнэн Худал
 Энэ бол бөөрөнхий хэлбэртэй. Үнэн Худал

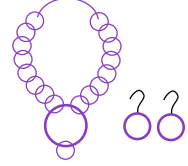
в.  Энэ бол тойрог хэлбэртэй. Үнэн Худал
 Энэ бол дугуй хэлбэртэй. Үнэн Худал
 Энэ бол бөөрөнхий хэлбэртэй. Үнэн Худал

4 Зохиомжийг ямар, ямар дүрс хэрэглэсэн бэ? Тоочин бичээрэй.

а.  _____

б.  _____

в.  _____

г.  _____

Дууссан:сарөдөр



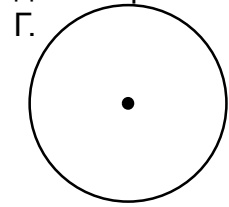
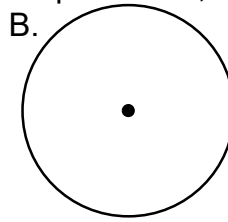
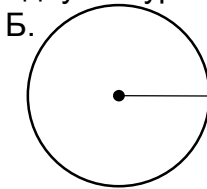
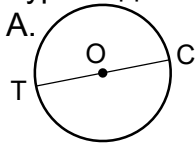
Даалгавар	1	2	3	4
Өөрийн үнэлгээ				



Сурагчийн нэр:

Эхэлсэн: он сар өдөр

- 1 Зураг бүр дэх тойргийн диаметр ба радиусыг зураарай.
Зурсан диаметр, радиусын уртыг шугамаар хэмжиж, хүснэгтэд бичээрэй.

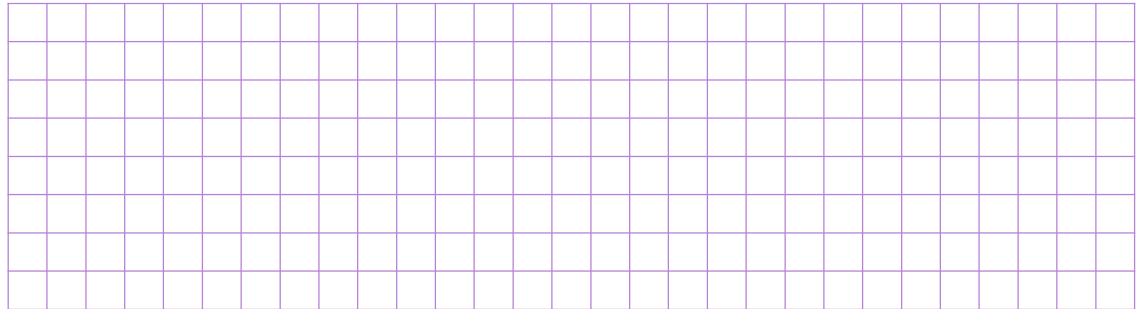


OT, OC - радиус
TC - диаметр

	Зураг А	Зураг Б	Зураг В	Зураг Г
Радиуссммм			
Диаметрсммм			

- 2 Гортиг хэрэглэн өгсөн радиустай тойрог зураарай.

а. 1 см б. 2 см в. 5 мм г. 1 см 5 мм



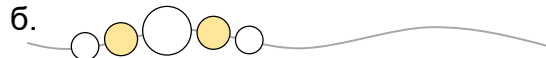
- 3 Зааврын дагуу дэвтэртээ гүйцэтгээрэй.

- а. Өгсөн цэгт төвтэй, 3 см радиустай тойрог зураарай.
Дүрсийн хүрэн дээр утас наагаарай.
- б. Өнгийн цаасан дээр 3 см радиустай дугуй дүрс зураад, хайчлаарай.
Хайчилсан дүрсээ наагаарай.

- 4 Дугуй дүрсээр зохиомж бүтээж зураарай.



- 5 Зүй тогтлыг ажиглаарай. Дүрсүүдийг гүйцээн зураарай.



Дууссан:сарөдөр



Даалгавар	1	2	3	4	5
Өөрийн үнэлгээ	😊	😊	😊	😊	😊